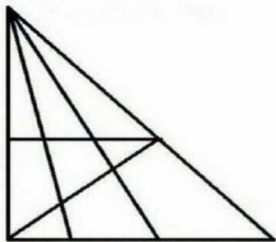


MATEMATIČKI KUTAK

1. Koliko trokuta vidiš?



2. Riješi zadatak.

$$\text{🍏} + \text{🍏} + \text{🍏} = 30$$

$$\text{🍏} + \text{🍌} + \text{🍌} = 18$$

$$\text{🍌} - \text{🥥} = 2$$

$$\text{🥥} + \text{🍏} + \text{🍌} = ??$$

3. Izračunaj.


97% pogrešno odgovore

$$1 + 1 + 1 + 1 + 1$$

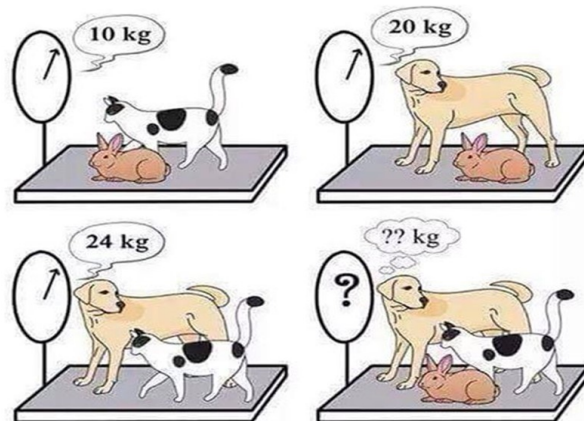
$$1 + 1 + 1 + 1 + 1$$

$$1 + 1 \times 0 + 1 = ?$$

4. Koliko kvadrata nadopunjuje rupu?



5. Izračunaj.



6. Ide li mačka dolje ili gore?



7. Pravilno pročitaj.

ŽUTA PLAVA NARANČASTA
 CRNA CRVENA ZELENA
 LJUBIČASTA ŽUTA CRVENA
 NARANČASTA ZELENA CRNA
 PLAVA CRVENA LJUBIČASTA
 ZELENA PLAVA NARANČASTA

8. Koliko je letvica na slici?

